



Zahira College – Colombo
Primary Section

Holiday Assignment

2nd Term - 2014

Part – I

**Subjects: Sinhala / Arithmetical
Concepts / International
Language
(Sinhala Medium)**

Grade: 3

- ❖ 1st part of the assignment should be handed over on 7th July between 9.00 a.m. – 11.00 a.m. to the Head. Primary office.
- ❖ 2nd part of the assignment will be given on the 17th of July,

Guidelines to the parents....

- These holiday assignments should be completed by the students, parent can guide when necessary.
- The assignments should be handed over in A4 sheets as a booklet separately, for each subject in a decorative manner. If needed the students can paste / draw picture.

දෙමාපියන්ගේ අවධානයට

මෙය නිවාඩු කාලයේ පැවරුමක් වේ.

මෙය සිසුන් විසින්ම කළ යුතුවේ. අවශ්‍ය අවස්ථාවන්හි දෙමාපියන්ට මග පෙන්විය හැකිය.

එක් එක් පාඩමට අදාළ පැවරුම් වෙත වෙනම A4 කොළවල පිළිතුරු ලියා පොත් පිංවයක් ලෙස සකස් කරන්න.

අවශ්‍යනම් අලංකාරවත් ලෙස පිළියළු කල හැකිය.

පැවරුම් සියල්ල සිසුන්ගේ අත් අකුරෙන් තිබිය යුතුය.

පැවරුම් I කොටස සම්පූර්ණ කර ජූලි 07 දින පෙ.ව. 9.00 – 11.00 අතර කාලය තුළ ප්‍රාථමික අංශාධිපති කාර්යාලයට භාර දෙන්න.

පැවරුම් වල II කොටස ජූලි 17 දින ලබා දෙනු ලැබේ

பெற்றோர் கவனத்திற்கு...

- இது விடுமுறைக்கால ஒப்படையாகும்
- இவற்றைப் பிள்ளைகளே செய்ய வேண்டும். பெற்றோர் தேவைப்படும் போது மட்டும் உதவலாம்.
- ஒவ்வொரு பாட ஒப்படைகளும் வெவ்வேறாக A4 தாள்களில் செய்யப்பட்டு புத்தக வடிவில் கையளிக்கப்பட வேண்டும்
- விரும்பின் அலங்காரம் செய்ய முடியும்
- வினாக்களும் விடைகளும் பிள்ளைகளின் கையெழுத்துக்களாலேயே எழுதப்பட வேண்டும்.
- பகுதி I இன் எல்லா ஒப்படைகளும் ஜூலை 7ந் திகதி காலை 9.00 – 11.00க்கு இடையில் ஆரம்ப பிரிவு தலைவியின் அலுவலகத்தில் ஒப்படைக்க வேண்டும்.
- குதி II ற்கான ஒப்படைகள் ஜூலை 17ந் திகதி வழங்கப்படும்.

නිවාඩු කාලයේ පැවරුම්
3 ශ්‍රේණිය
සිංහල
I කොටස

(1) පහත දැක්වෙන වචන අයත් වන්නේ කුමන නාම පද වර්ගයටද යන්න ඉදිරියෙන් ලියන්න.

1. මාලය
2. මැස්සා
3. වේයන්ගොඩ
4. සෙබලා
5. කුමියා
6. හැන්ද
7. ඉන්දියාව
8. ධීවරයා

(2) මෙය ලියා ඇත්තේ අපිලිවෙළටය. එය අනුපිලිවෙළට ලියන්න.

රටාවකට කෝටු විබ්බා.
කෝටු කෑලි ගෙනාවා.
ගහේ අත්තක් තෝරා ගන්නා.
අලංකාර කුඩුව තැනුවා.

1.
2.
3.
4.

(3) ජන කවිය කියවා පිළිතුරු ලියන්න.

උදේ සිටත් වකුටු කොන්ද දිග	ඇරපල්ලා
අතේ තියෙන ගොයම් මිටිය බිම	තබපල්ලා
ඉනේ තිබෙන ලේන්සු පොඩිය අතට	ගනිල්ලා
සතරවරම් දෙවිපිහිටෙන් ගොඩට	යමල්ලා

1. දිග අරින්න කියන්නේ කුමක්ද?
2. බිම තබන්න කියන්නේ මොනවාද?
3. ඉනේ තිබුනේ මොනවාද?
4. ගොඩට ඒමට කියන්නේ කාගේ පිහිටෙන්ද?

(4) පෙළ පොත 1 සිට 11 දක්වා පාඩම් කියවා පහත අනුරූ වලට අදාළ වචන සොයා ලියන්න.

දන්නප් 'ස'	තාලප් 'ශ'	මුර්ධප් 'භ'
1.	1.	1.
2.	2.	2.
3.	3.	3.
4.	4.	4.
5.	5.	5.

(5) පහත සකල්පයක අකුරු යෙදෙන වචන දෙක
 ඇගයීම ලියන්න.

උ - 1. 2.

ඔ - 1. 2.

ඟ - 1. 2.

ඬ - 1. 2.

(6) ගැලපෙන නාම විශේෂණ පදය කොටුව තුළින්
 තෝරා හිස් තැනෙහි ලියන්න.

මුරහ	සුදු	රතු
කපටි	අසරණ	

1. නරියා ගස මුල සිටියි.
2. බල්ලා හපා හොකයි.
3. යාවකයා පිහට යමක්
 ඉල්ලයි.
4. වලාකුළු සෙමෙන් පාවෙයි.
5. එළඳෙන තණකොළ කයි.

(7) ප්‍රහේලිකා පුරවමු.

	ඳ
වා	

පහළට:

1. දැවසට දෙවරක් මැදිය යුතුය.
2. මදුරුවාගෙන් වැළඳෙන රෝග.

හරහට:

3. අපේ ප්‍රධාන ආහාරයයි.

(8)

ග			තු	

පහළට:

1. ගසට නවත් නමකි.

හරහට:

2. අධික වැසි නිසා ඇතිවේ.

(9)

මැ		ක
	ම	

පහළට:

1. ලොඩ බෝකරන කෘමියෙකි.
2. වෙළඳාම් කරන තැනයි.

හරහට:

3. යුද සෙබළු මේ සඳහා වෙහෙසෙති.

නිවාඩු කාලයේ පැවරුම්
3 ශ්‍රේණිය
ගණිතය
I කොටස

(1) දී ඇති සංඛ්‍යාවට පෙර හා පසු සංඛ්‍යා ලියන්න.

(1)..... 36

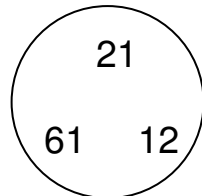
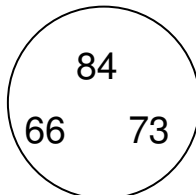
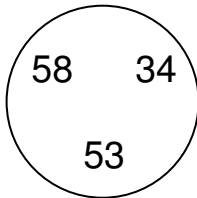
(2)..... 52

(3)..... 13

(4)..... 64

(5)..... 83

(2) රවුම තුළ ඇති සංඛ්‍යා අඩු සංඛ්‍යාවේ සිට වැඩි සංඛ්‍යාව දක්වා ලියන්න.



(3) කොටු තුළ ඇති ඉලක්කම් වලින් සෑදිය හැකි 100 ට වැඩි සංඛ්‍යා 3 බැගින් ලියන්න.

9	6
2	
4	3

2	8
3	
9	6

8	5
	4
7	6

(4) එකතු කරන්න.

(1)

$$\begin{array}{r} 11 \\ + 23 \\ \hline \\ \hline \end{array}$$

(2)

$$\begin{array}{r} 14 \\ + 31 \\ \hline \\ \hline \end{array}$$

(3)

$$\begin{array}{r} 83 \\ + 4 \\ \hline \\ \hline \end{array}$$

(4)

$$\begin{array}{r} 12 \\ + 19 \\ \hline \\ \hline \end{array}$$

(5)

$$\begin{array}{r} 24 \\ + 46 \\ \hline \\ \hline \end{array}$$

(6)

$$\begin{array}{r} 36 \\ + 36 \\ \hline \\ \hline \end{array}$$

(7)

4 4

+ 5 7

(8)

5 7

+ 1 3

(9)

6 3

+ 1 8

(5) අඩු කරන්න.

(1)

4 8

- 1 1

(2)

6 3

- 2 1

(3)

9 6

- 8 4

(4)

3 6

- 2 9

(5)

4 2

- 1 8

(6)

5 0

- 2 2

(7)

6 3

- 5 5

(8)

7 1

- 2 7

(9)

8 0

- 1 7

(10)

9 4

- 6 6

(6) පහත දැක්වෙන වේලාවල් ඔරලෝසු මුහුණත්වල අඳින්න.

(1) 5.00

(3) 6.30

(2) 2.00

(4) 9.30

(7) පහත ප්‍රශ්නවලට පිළිතුරු සපයන්න.

1. ඔබ මීටර කෝදුවට වඩා උසද?

2. ඔබේ උස මීටර කෝදුවෙන් මැන
ලියන්න.

3. මීටර කෝදුවේ දිග ඔබේ වියත් කීයද?
.....

4. මීටර කෝදුව සෙන්ටි මීටර කීයක් දිගද?
.....

5. ඔබේ නිවසේ සාලයේ දිග සෙන්ටි මීටර
කීයද?

(8) විසඳන්න.

(1) $2 \times 2 = \dots\dots\dots$

(2) $6 \times 2 = \dots\dots\dots$

(3) $4 \times 2 = \dots\dots\dots$

(4) $5 \times 2 = \dots\dots\dots$

(5) $9 \times 2 = \dots\dots\dots$

(6) $1 \times 3 = \dots\dots\dots$

(7) $3 \times 3 = \dots\dots\dots$

(8) $5 \times 3 = \dots\dots\dots$

(9) $8 \times 3 = \dots\dots\dots$

(10) $6 \times 3 = \dots\dots\dots$

(9) විසඳන්න.

(1) $2 \div 2 = \dots\dots\dots$

(2) $12 \div 2 = \dots\dots\dots$

(3) $16 \div 2 = \dots\dots\dots$

(4) $4 \div 2 = \dots\dots\dots$

(5) $10 \div 2 = \dots\dots\dots$

(6) $24 \div 3 = \dots\dots\dots \textcircled{?} \dots\dots\dots$

(7) $30 \div 3 = \dots\dots\dots \textcircled{?} \dots\dots\dots$

(8) $5 \div 2 = \dots\dots\dots \textcircled{?} \dots\dots\dots$

(9) $13 \div 2 = \dots\dots\dots \textcircled{?} \dots\dots\dots$

(10) $21 \div 2 = \dots\dots\dots \textcircled{?} \dots\dots\dots$

(10) පිළිතුරු ලියන්න.

(1) කුඩයක පැපොල් ගෙඩි 47 ක් තිබුණා. තව පැපොල් 58 ක් කුඩයට දැමීමා. දැන් ඔක්කෝම පැපොල් ගෙඩි ගණන කීයද?

.....
.....
.....

(2) නිවසේ පිහන් 73 ක් තිබුණි. ඉන් 29 ක් බිඳී ගොස් ඇත. ඉතිරි පිහන් ගණන කීයද?

.....
.....
.....

(3) මල් වට්ටි 3 ක් තිබේ. එක වට්ටියකට මල් 5 බැගින් දැමීමට මල් කීයක් අවශ්‍යවේද?

.....
.....
.....

(4)වෙරළ ගෙඩි 12 ක් දෙදෙනෙකු අතර සමානව බෙදූ විට එක් අයෙකුට කීයක් ලැබේද?

.....

(11) මෙම වගුව පුරවන්න.

ඝන වස්තු	දාර ගණන	ශීර්ෂ ගණන	පැති ගණන
ඝනකය			
ඝනකාභය			
ගෝලය			
සිලින්ඩරය			

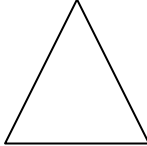
(12) පාට කරන්න.

(1)




$\frac{1}{2}$

(2)



$\frac{1}{2}$

(3)



$\frac{1}{4}$

(4)



$\frac{2}{4}$

Holiday Assignment
Grade 3 – Sinhala & Tamil Medium
International Language
Part I

1. **Read the newspaper daily for a week and find 10 new words.**
Paste each word in coloured A4 paper and draw its related picture.

2. **Write six sentences for the following topics.**
 - (a) My country.
 - (b) My hobby.
 - (c) My favourite book.
 - (d) My family.
 - (e) The sport I like.

3. **Learn the poem.**

The Little Brown Bulb – (by – Paul King)

The little brown bulb lies quiet and warm sheltered from wind and sheltered from storm. “Awake, Little Bulb”, call the rain and the sun “Wake and unfold. Your green and your gold for winter are done”.

4. **Write the months of the year in order.**

5. **Make a (zig zag book) about 10 good habits.**